

SPM 2004-SPM 2019
T4B1 : TAMADUN AWAL MANUSIA

KONSEP TAMADUN

SPMU 2019

- 1 Menurut pandangan Barat, konsep tamadun merangkumi pembangunan
T4 B1 ms 5 [P2 B5]
- A bandar
B tatasusila
C kesopanan
D moral

SPMU 2018

- 1 Konsep tamadun dari sudut pandangan islam menekankan pembangunan rohaniah.
Apakah yang berkaitan dengan pembangunan rohaniah ? T4 B1 ms 5 [P3 B6]
- A Kepelbagaian kepercayaan
B Kepelbagaian kemahiran
C Ketinggian pemikiran
D Ketinggian tatasusila

SPMU 2017

- 1 Menurut pandangan Islam, konsep tamadun memberi penekanan kepada
pembangunan unsur-unsur tertentu. T4 B1 ms 5 [P3 B2]
- Apakah unsur-unsur tersebut?
- A Bandar dan seni
B Lahiria dan falsafah
C Lahiria dan rohaniah
D Bandar dan budaya

SPM 2015

- 1 Bagaimanakah ciri kehidupan bandar yang bertamadun menurut
pandangan cendekiawan Islam? T4 B1 ms 5 [P3 B6]
- A Kebebasan mengamalkan sebarang agama
B Kemajuan pesat dalam bidang ekonomi
C Kesejahteraan semua lapisan rakyat D Ketinggian tatasusila
masyarakat

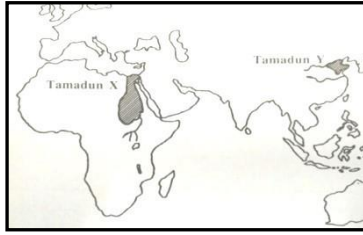
SPM 2009

- 1 Dalam karyanya *Muqaddimah*, Ibn Khaldun menekankan ciri kehidupan bandar
yang bertamadun.
Apakah ciri kehidupan tersebut? T4 B1 ms 5 [SUDUT MAKLUMAT]
- A Kebebasan beragama
B Kesejahteraan hidup
C Kemajuan ekonomi
D Ketinggian moral

CIRI-CIRI TAMADUN

SPM 2016

1 Soalan 1 dan soalan 2 berdasarkan Peta 1.



Peta 1 : Lokasi Tamadun Awal Dunia

Apakah **Tamadun X** dan **Tamadun Y**? T4 B1 ms 9 [PETA]

- A Hwang Ho dan Indus
- B Mesir dan Hwang Ho
- C Indus dan Mesopotamia
- D Mesopotamia dan Mesir

SPM 2016

2 Apakah nama sungai di **Tamadun X** dan sungai di **Tamadun Y**? T4 B1 ms 9 [PETA]

- A Sungai Kuning dan Sungai Tigris
- B Sungai Tigris dan Sungai Indus
- C Sungai Nil dan Sungai Kuning
- D Sungai Indus dan Sungai Nil

SPM 2017

3 Jadual 1 merujuk kepada lokasi tamadun awal dunia.

Tamadun	Lokasi
Mesopotamia	Lembah Sungai Tigris dan Sungai Euphrates
Mesir Purba	Lembah Sungai Nil
Indus	Lembah Sungai Indus

Mengapakah tamadun tersebut tertumpu di lembah sungai ? B1 ms 8 [P4 B4 & B6-B7]

- I Mempunyai tanah yang subur
 - II Mengekalkan warisan tradisi
 - III Mendapat mandat tuhan
 - IV Memudahkan perhubungan
- A I dan II
 - B I dan IV
 - C II dan III
 - D III dan IV

SPM 2017

1 Rajah 1 berkaitan dengan ciri - ciri tamadun. T4 B1 ms 6 [P2 B1]



Apakah X ?

- A Kemajuan sistem perhubungan
- B Hubungan antara kerajaan
- C Kehidupan berorganisasi
- D Perkembangan ekonomi

TAMADUN MESOPOTAMIA

SPM 2004

- 1 Apakah faktor yang membawa kepada keruntuhan kerajaan Mesopotamia ? **T4 B1 ms 11 [P1 B1]**
- A Penguasaan Parsi
 - B Peluasan tamadun Indus
 - C Rampasan kuasa golongan pendeta
 - D Kemusnahan Taman Tergantung Babylon

SPM 2011

- 1 Setiap negara kota dalam tamadun Mesopotamia mempunyai pintu gerbang yang pelbagai bentuk. **T4 B1 ms 11 [P5 B5]**
Apakah kepentingan pintu gerbang dalam tamadun tersebut?
- A Lambang kekayaan
 - B Panduan laluan kapal
 - C Sempadan empayar
 - D Simbol keganasan

SPMU 2017

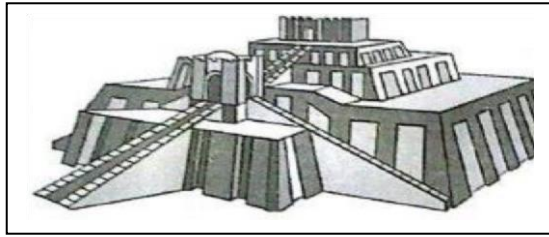
- 2 Setiap negara kota dalam tamadun Mesopotamia mempunyai pelbagai bentuk pintu gerbang. Hal ini melambangkan **T4 B1 ms 11 [P5 B5]**
- A kekayaan
 - B kepatuhan agama
 - C kekuasaan pemerintah
 - D kemahiran pengukir

SPM 2013

- 2 Sistem pemerintahan di Mesopotamia berasaskan sistem beraja. Apakah bentuk sistem beraja tersebut? **T4 B1 ms 12 [P3 B4]**
- A Oligarki
 - B Demokrasi
 - C Aristokrasi
 - D Teokrasi

SPMU 2016

- 1 Gambar 1 adalah bangunan zigurat. T4 B1 ms 13 [P2 B3]




Mengapakah masyarakat Mesopotamia membina bangunan tersebut?

- A Penjara bagi rakyat yang melakukan kesalahan
- B Tempat menyimpan abu mayat bangsawan
- C Kubu pertahanan dari serangan musuh
- D Menjalankan upacara keagamaan

SPM 2012

- 1 Gambar 1 berkaitan dengan Kod Undang-Undang Hammurabi.



Apakah prinsip undang-undang tersebut? T4 B1 ms 14 [P3 B8-B9]

- A Mengutamakan konsep permuafakatan
- B Berasaskan sistem kepercayaan tempatan
- C Berteraskan hak rakyat terhadap keadilan
- D Hukuman yang sama untuk semua golongan

SPM 2004

- 3 Mengapakah Kod Undang-Undang Hammurabi penting kepada masyarakat Mesopotamia ? T4 B1 ms 14 [P4 B8-B9]
- A Menggalakkan mobiliti sosial
 - B Merekodkan urusan pentadbiran
 - C Mengukuhkan organisasi masyarakat
 - D Mencatatkan harta golongan bangsawan

TAMADUN MESIR PURBA

SPM 2006

Pada tahun 1922, pengkaji Mesir Purba Howard Carter menemui mayat Tutankhamun II yang diselaputi emas.

- 1 Merujuk pernyataan di atas, apakah kesimpulan yang dapat dibuat? T4 B1 ms 20 [P3 B7]
- A Upacara pemujaan semangat
 - B Konsep kehidupan selepas mati
 - C Percaya kepada kelahiran semula
 - D Amalan penyembahan nenek moyang

SPM 2019

- 2 Berikut adalah tuhan yang disembah oleh masyarakat Mesir Purba.
- * Re
 - * Amun
 - * Ra-Atum

Apakah rumusan yang boleh dibuat tentang kepercayaan masyarakat Mesir Purba?

- A Menafikan kehidupan selepas mati
- B Mengamalkan sistem kepercayaan monoteisme
- C Melarang amalan penyembahan roh nenek moyang
- D Mempercayai unsur alam mempengaruhi kehidupan

SPM 2011

- 2 Apakah sumbangan Imhotep terhadap Tamadun Mesir Purba? T4 B1 ms 21 [P2 B5]
- A Memperkenalkan teknik pembinaan bangunan
 - B Memajukan teknologi bidang pertanian
 - C Menggubal undang-undang
 - D Mencipta sistem tulisan

SPMU 2018

- 2 Gambar 1 adalah tulisan hieroglif.



Tulisan tersebut dicipta oleh masyarakat dalam tamadun T4 B1 ms 20 [P4 B1-B3]

- A Mesopotamia
- B Mesir Purba
- C China
- D Indus

SPM 2010

- 1 Maklumat berikut berkaitan dengan sistem tulisan dalam Tamadun Mesir Purba.

Berasaskan kombinasi gambar dan simbol yang berdasarkan bunyi.

Apakah sistem tulisan tersebut? T4 B1 ms 20 [P4 B3]

- A Hieroglif
- B Ideogram
- C Cuneiform
- D Piktograf

SPM 2007

1 Antara yang berikut, yang manakah sumbangan tamadun Mesir Purba?

T4 B1 ms 21 [P4 B3] ms 22 [P3 B14]

- I Kolar kuda
- II Pedati beroda
- III Sistem kalendar
- IV Tulisan hieroglif
- A I dan II
- B I dan IV
- C II dan III
- D III dan IV

SPM 2018

6 Maklumat berikut berkaitan dengan pemerintah dalam tamadun dunia

Pemerintah	Kerajaan
Raja Indravarman I	Angkor
Firaun Hatshepsut	Mesir Purba

Apakah persamaan sumbangan kedua - dua pemerintah tersebut?

T4 B1 ms 20 [P1 B2- B4] & T4B3 ms 76 & 77 [P3 B1]

- A Memperkenalkan sistem perundangan
- B Meluaskan kegiatan perdagangan
- C Memperkuat sistem pertahanan
- D Meningkatkan hasil pertanian

TAMADUN INDUS

SPM 2018

2 Tinggalan bandar Mohenjo - Daro buat pertama kalinya ditemui oleh R.D Banerji pada tahun 1921. *Sumber : http://archeology.about.com/od/mterms/qt/mohenjo_daro.htm*

Antara yang berikut, yang manakah tinggalan bandar tersebut? **T4 B1 ms 24 [P1 B6]**

- A Tempat mandi awam
- B Pusat latihan tentera
- C Taman tergantung
- D Aqueduct

SPM 2019

1 Tamadun berikut bertembung dengan tamadun Indus.

- Tamadun Mesopotamia
- Tamadun Mesir Purba

Apakah kesan pertembungan tersebut terhadap tamadun Indus?

- A Penerokaan bahan mentah
- B Peningkatan produk pertanian
- C Kemajuan perancangan bandar
- D Kemajuan sistgem pentadbiran

SPMU 2019

- 2 Gambar 1 menunjukkan tinggalan bandar Mohenjo-Daro dalam tamadun Indus.



Mengapakah masyarakat dalam tamadun Indus mampu membina bandar tersebut? **T4 B1 ms 27 [P3 & Sudut maklumat]**

- A Negara kota bersatu padu
- B Wilayah pemerintahan meluas
- C Kemasukan unsur tamadun luar
- D Kegiatan pertanian berkembang

SPM 2015

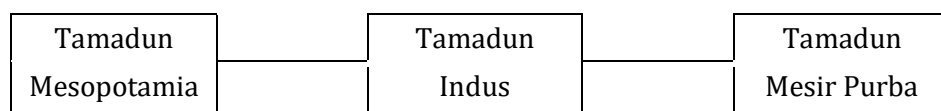
- 2 Masyarakat dalam Tamadun Indus (2000 sebelum Masihi) berjaya membina bandar terancang tertua di dunia.

Kemampuan masyarakat dalam tamadun tersebut membina bandar terancang adalah disebabkan oleh **T4 B1 ms 27 [P2 B8 & P3 B1]**

- I Amalan sikap terbuka
 - II Pertembungan dengan budaya lain
 - III Peluasan wilayah pemerintahan
 - IV Kejayaan kegiatan penjelajahan
- A I dan II
 - B I dan IV
 - C II dan III
 - D III dan IV

SPMU 2015

- 1 Rajah 1 menerangkan pertembungan Tamadun Indus dengan tamadun awal yang lain. **T4 B1 ms 27 [P2 B8-B10]**



Apakah kesan pertembungan tersebut?

- A Kawasan pemerintahan meluas
- B Bidang sastera berkembang
- C Teknologi pertanian maju
- D Bandar terancang dibina

SPM 2014

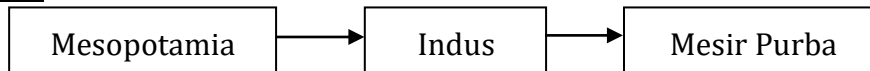
- 2 Mohenjo-Daro dan Harappa adalah bandar terancang terawal di dunia. Mengapakah masyarakat Tamadun Indus berjaya membina bandar terancang tersebut? **T4 B1 ms 27 [P2 B8]**

- A Peluasan ajaran agama
- B Sistem pemerintahan teokrasi
- C Sumbangan golongan bangsawan
- D Pertembungan dengan tamadun luar

SPM 2010

- 2 Apakah kesan pengamalan sifat terbuka dalam masyarakat Indus ? 4 B1 ms 27 [P3 B9]
- A Peluasan pengaruh
 - B Pertukaran teknologi
 - C Penyebaran agama Hindu
 - D Perkembangan bidang penulisan


SPM 2006



- 3 Rajah di atas menunjukkan pertembungan tamadun awal. Apakah kesan pertembungan tersebut kepada tamadun Indus? T4 B1 ms 27 [P2 B2]
- A Pembinaan bandar terancang
 - B Peningkatan teknologi pertanian
 - C Peluasan kawasan pemerintahan
 - D Perkembangan hasil kesusasteraan

SPM 2017

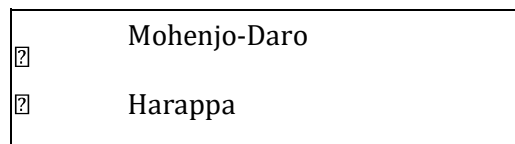
- 4 Mengapakah masyarakat lembah Indus membina bandar terancang seperti berikut ? T4 B1 ms 27 [P2 B5]



- A Lokasi strategik
- B Penduduk ramai
- C Bidang geometri yang maju
- D Sumber alam yang banyak

SPMU 2016

- 2 Kedua-dua bandar berikut terdapat dalam tamadun Indus.



Apakah faktor kemajuan bandar tersebut? T4 B1 ms 27 [P2 B5]

- A Penambahan penduduk
- B Penguasaan ilmu geometri
- C Perubahan struktur organisasi
- D Perkembangan sistem pengangkutan

SPM 2009

- 2 Perkembangan yang pesat dalam perancangan bandar berlaku pada sekitar tahun 2000 S.M dalam Tamadun Indus.

Apakah faktor yang mendorong perkembangan tersebut ? **T4 B1 ms 27 [P2 B8]**

- A Kemahiran ilmu geometri
- B Kejayaan kegiatan penerokaan
- C Keluasan kawasan pemerintahan
- D Kegiatan keagamaan

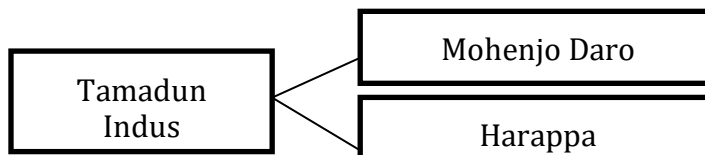
SPM 2006

Masyarakat Indus telah menjalankan hubungan perdagangan dengan masyarakat Mesopotamia.

- 2 Apakah bukti arkeologi yang menyokong pernyataan di atas ? **T4 B1 ms 26 [P1 B7]**
- A Cap mohor
 - B Batu bersurat
 - C Tembikar tanah
 - D Gendang gangsa

SPMU 2014

- 1 Rajah 1 menunjukkan bandar dalam Tamadun Indus. **T4 B1 ms 27 [P2 B2]**



Rajah 1

Apakah keistimewaan kedua-dua bandar tersebut?

- A Mempunyai pelbagai agama
- B Pembinaan secara terancang
- C Berfungsi sebagai pelabuhan
- D Pentadbiran diketuai pendeta

TAMADUN HWANG HO

SPMU 2014


- 2 Gambar 1 berkaitan dengan tamadun awal di China. **T4 B1 ms 31 [P4 B2]**



Apakah yang berkaitan dengan tulang tersebut?

- A Pengenalan sistem tulisan
- B Peningkatan status masyarakat
- C Pengenalan sistem perundangan
- D Peralatan untuk berperang

SPM 2006



- 4 Antara yang berikut, yang manakah berkaitan dengan gambar di atas? **T4 B1 ms31 [P4B2]**
- A Pengenalan sistem tulisan
 - B Senjata untuk berperang
 - C Alat upacara pengebumian
 - D Lambang status masyarakat

SPMU 2015

- 4 Pada Zaman Dinasti Chou di China, pembesar mesti taat setia kepada raja. Bagaimanakah pembesar membuktikan kesetiaan mereka? **T4 B1 ms 31 [P2 B7]**
- A Mengawal kawasan istana
 - B Menyerahkan hasil pertanian
 - C Menggubal undang-undang wilayah
 - D Memberikan bantuan ketenteraan

SPM 2007

- 2 Andaikan anda seorang pembesar pada zaman Dinasti Chou di China. **T4 B1 ms 31 [P2 B4 & B7]**
Apakah yang anda lakukan untuk membuktikan kesetiaan anda kepada raja?
- I Melafazkan taat setia
 - II Menyerahkan ufti
 - III Melindungi rakyat
 - IV Memberi bantuan ketenteraan
- A I dan II
 - B II dan III
 - C I dan IV
 - D III dan IV

SPM 2004

2

Tamadun Awal	Raja
Sumeria	Tuhan atau wakil tuhan
Mesir	Jelmaan tuhan, anak Tuhan Matahari
Hwang Ho	Mandat daripada tuhan


Apakah yang dapat dirumuskan daripada maklumat di atas ? **T4 B1 ms 12,13,19 & 31**

- I Raja memiliki kuasa mutlak
- II Raja penentu bencana alam
- III Raja berkuasa ke atas kehendak tuhan
- IV Raja perlu mendapat sokongan bangsawan

- A I dan II C II dan III
B I dan IV D III dan IV

SPM 2013

- 1 Gambar 1 berkaitan dengan simbol Yin dan Yang.



Apakah maksud simbol tersebut? T4 B1 ms 33 [SUDUT MAKLUMAT]

- A Mandat dari syurga
B Pemujaan roh nenek moyang
C Unsur alam yang saling melengkap
D Ramalan peristiwa yang akan berlaku

SPM 2018

- 1 Buku berikut ditulis oleh Sun Tzu.

The Art of War

Apakah perkara yang boleh dimanfaatkan oleh masyarakat hari ini dari buku tersebut? T4 B1 ms 33 [P2 B6]

- A Sejarah awal manusia
B Rahsia kejayaan perniagaan
C Maklumat sistem pemerintahan
D Penerangan sistem kepercayaan

SPM 2008

- 2 Apakah kepentingan kandungan karya *The Art Of War* yang ditulis oleh Sun Tzu kepada masyarakat hari ini? T4 B1 ms 33 [P2 B6]

- A Menerangkan sistem pemerintahan
B Mengatur strategi perniagaan
C Menentukan bentuk hubungan luar
D Membantu pelaksanaan peperiksaan awam